

Όνομα:..... Ημερομηνία:.....

Μαθαίνω για την κατεχόμενη πόλη της Κερύνειας

Η **Κερύνεια** είναι παραθαλάσσια πόλη της Κύπρου που βρίσκεται περίπου το μέσο της βόρειας ακτής της. Αποτελεί πρωτεύουσα της επαρχίας της Κερύνειας και περιλαμβάνει το μεγαλύτερο μέρος της οροσειράς του Πενταδάκτυλου.

Δραστηριότητα 1: Στον χάρτη πιο κάτω φαίνεται με κόκκινο χρώμα η επαρχία της Κερύνεια στο χάρτη της Κύπρου. Με τη βοήθεια του χάρτη της Κύπρου τοποθέτησε ακριβώς την πόλη της Κερύνειας.



Το 1974 οι Ελληνοκύπριοι κάτοικοι της Κερύνειας διώχθηκαν με τη βία από τον τουρκικό στρατό, έφυγαν από την πόλη τους και μετατράπηκαν σε πρόσφυγες ή αλλιώς εκτοπισμένους.

Δραστηριότητα 2: Πιο κάτω είναι ο χάρτης της Κύπρου χωρισμένος στις έξι επαρχίες της. Τι συμπεράσματα μπορείτε να αντλήσετε σχετικά με το μέγεθος της και τη θέση της Κερύνειας;



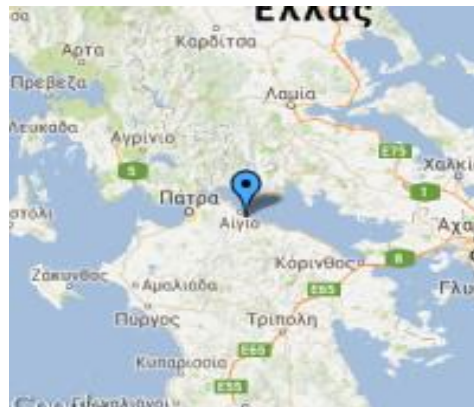
.....

.....

.....

Αντρη Καμένου

Η Κερύνεια είναι η μικρότερη από τις έξι πόλεις της Κυπριακής Δημοκρατίας και μια από τις αρχαίες πόλεις της Κύπρου. Το όνομα της προέρχεται από μια αρχαία πόλη στην Πελοπόννησο της Ελλάδας, την Κερύνεια Αχαΐας, η τοποθεσία της οποίας φαίνεται πιο κάτω.



Η πόλη της Κερύνειας εκτείνεται γύρω από το μικρό λιμάνι της. Πιο κάτω μπορείτε να δείτε φωτογραφίες του όμορφου και γραφικού λιμανιού της Κερύνειας.



Δραστηριότητα 3: Μελετώντας τον γεωφυσικό χάρτη της Κύπρου που έχετε μπροστά σας αναφέρετε ποια οροσειρά (ή ποιο βουνό) της Κύπρου εμπίπτει στην επαρχία Κερύνειας. Θα σας βοηθήσει και η πιο κάτω εικόνα.



Άντρη Καμένου

.....
.....
Δραστηριότητα 4: Αναφέρετε ποια χωριά της Κερόνειας βρίσκονται πάνω στην οροσειρά του Πενταδακτύλου, ποια στην βόρεια πλευρά του και ποια στη νότια;



.....
.....
Δραστηριότητα 5: Μελετώντας τις πιο πάνω φωτογραφίες του Πενταδακτύλου συζητήστε με τους διπλανούς σας ώστε να εξηγήσετε γιατί στην οροσειρά του Πενταδακτύλου δόθηκε η συγκεκριμένη ονομασία.




.....
.....
.....
Η βλάστηση στον Πενταδάκτυλο παρουσιάζει μεγάλη ποικιλία. Ψηλότερα στις πλαγιές της οροσειράς υπάρχουν δάση από πεύκα και άγρια βλάστηση. Χαμηλότερα οι ελιές και οι χαρουπιές φτάνουν ως την παραλία. Στις περιοχές των χωριών όπου οι άνθρωποι πότιζαν τα χωράφια τους καλλιεργούνταν εσπεριδοειδή, κυρίως λεμονιές που δίνουν το χρώμα και το άρωμά τους από τη Βασίλεια ως τον Άγιο Επίκτητο. Χρυσομηλιές καλλιεργούνταν στα περβόλια του Αγίου Αμβροσίου και της Καλογραίας. Πιο γυμνή η νότια πλευρά του Πενταδάκτυλου με αραιές οι ελιές και εκτάσεις με λαχανικά. Σιτηρά κυριαρχούσαν από το Δίκωμο ως τον Κοντεμένο, τη Μύρτου και το Διόριος. Πολλά σπάνια φυτά ενδημούν στην περιοχή.

Δραστηριότητα 6: Παρατηρήστε τον χάρτη πιο κάτω και αναφέρετε μικρά και μεγαλύτερα χωριά της επαρχίας Κερύνειας.



Δραστηριότητα 7: Ρωτήστε τους συμμαθητές σας και τη δασκάλα ή τον δάσκαλό σας αν κατάγονται από κάποια περιοχή της επαρχίας Κερύνειας. Στη συνέχεια κυκλώστε την περιοχή και σημειώστε το όνομα του ατόμου που κατάγεται από εκεί.

Μεγάλα χωριά της επαρχίας Κερύνειας είναι το Δίκωμο η Λάπηθος και ο Καραβάς. Η **Λάπηθος** είναι κωμόπολη και παραλιακός δήμος στη βόρεια ακτογραμμή της Κύπρου, στα αριστερά της πόλης της Κερύνειας, στα κατεχόμενα από την Τουρκία εδάφη της Κύπρου. Σύμφωνα με την παράδοση κτίστηκε από τους Σπαρτιάτες και τον Πελοποννήσιο βασιλιά τους, Πράξανδρο πριν τον Τρωικό πόλεμο. Πιο κάτω μπορείτε να δείτε μερικές φωτογραφίες της Λαπήθου.



Άντρη Καμένου

Ο **Καραβάς** βρίσκεται κοντά στην αρχαία **Λάπηθο**. Κύριες ασχολίες των κατοίκων ήταν η γεωργία και η κτηνοτροφία ενώ ο Καραβάς ήταν γνωστός για τις **λεμονιές** του, μάλιστα γινόταν και ετήσια γιορτή λεμονιού. Δείτε πιο κάτω φωτογραφίες του Καραβά.



Δραστηριότητα 8: Μελετήστε τις πιο πάνω φωτογραφίες και αναφέρετε πιθανές ασχολίες των κατοίκων του Καραβά.

.....

.....

Το **Δίκωμο** είναι χωριό της επαρχίας Κερύνειας. Βρίσκεται 10 χιλιόμετρα βόρεια της Λευκωσίας, στη βουνοπλαγιά του Πενταδακτύλου που κοιτάει προς την Μεσαορία. Μέχρι το 1974 ήταν ο μεγαλύτερος σε πληθυσμό οικισμός της επαρχίας Κερύνειας με 4.000 κατοίκους. Οι γυναίκες, εξάλλου, ήταν πολύ καλές υφάντρες, ύφαναν έφτιαχναν δηλαδή υφάσματα.